
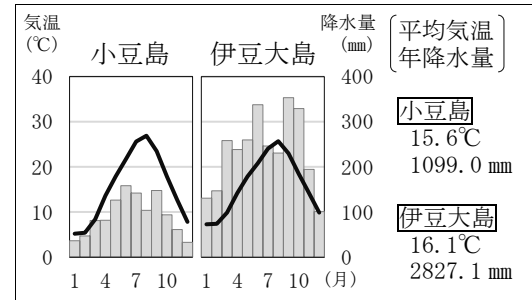


問1 次の各資料を見て、あとの1～7の問いに答えなさい。

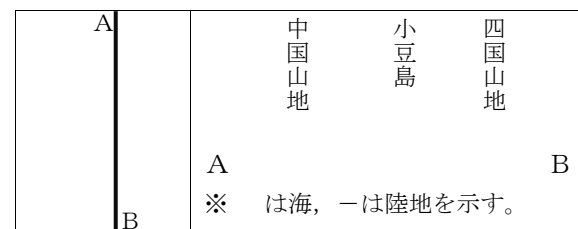
資料Ⅰ 日本の東西南北の端と排他的経済水域



資料Ⅱ 資料Ⅰ中の下線部④、⑤の雨温図



資料Ⅲ 東経134度の断面の模式図



- 資料Ⅰ中のXの海域は何と呼ばれるか。その呼び名を書け。
- 資料Ⅰ中のY内にあてはまる最も適当な言葉を書け。
- 次のア～エのうち、資料Ⅰ中の下線部①、②を結んだ北緯24度線が通過しない大陸はどれか。一つ選んで、その記号を書け。

ア アフリカ大陸 イ 北アメリカ大陸 ウ 南アメリカ大陸 エ ユーラシア大陸

- 資料Ⅰ中の下線部③について、次のa, bの問いに答えよ。
 - わが国の固有の領土である下線部③を不法に占領している国はどこか。その国名を書け。
 - 下線部③周辺では夏に濃い霧が発生することがある。これは資料Ⅰ中の→の海流によって空気が冷やされることによって生じる。この海流は何と呼ばれるか。その呼び名を書け。

- 資料Ⅰ中の下線部④、⑤は、いずれの緯度もおよそ北緯34度に位置する。この2島の気候の違いについてまとめようとした次の文中のA内にあてはまる内容を、資料Ⅱ、Ⅲから考え、解答欄に従って簡単に書け。また、イ、ウ内にあてはまる最も適当な言葉をそれぞれ書け。

小豆島は季節風がAため、年間を通して降水量が少ない。伊豆大島は季節風などを遮るものがなく、特に6月中ごろから7月にはイの、夏から秋にはウの影響により、降水量が多い。

- 次のア～エのうち、資料Ⅰについて正しく述べたものを二つ選んで、その記号を書け。
 - 日本の領域は、およそ直径2000kmの円内に収まる
 - 日本の領域は、ユーラシア大陸の東に弓のような形で連なり、他国と国境を陸上で接する
 - 日本の領土は、南北の緯度差が約25度、東西の経度差が約31度の間にある
 - 日本の領土や領海の間には、公海をはさんだところがある
- 日本の排他的経済水域は、その国土面積の約12倍の広さがある。その理由を簡単に書け。

問2 次の各資料を見て、あとの1～6の問いに答えなさい。

資料Ⅰ 坂出駅北の地図



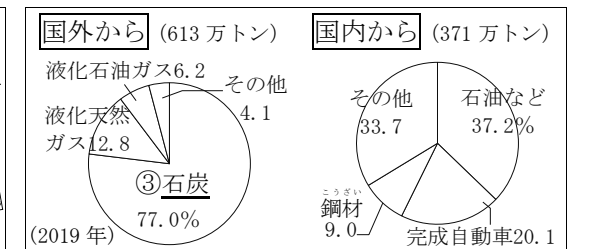
- A ⑦東西に延びるJR沿線の100m以内には、図書館や郵便局、①工場、学校が立地している
 B ⑩市役所(◎)から坂出駅を見たとき、坂出駅は④北東の方角にある

- 近年、資料Ⅰ中の下線部①では、インターネットなどによって遠く離れた医師と患者をつなぎ、診断や指示などの診療が可能となった。これは何と呼ばれるか。その呼び名を書け。
- 資料Ⅰ中の下線部②についてまとめようとした次の文中のA、イ内にあてはまる最も適当な言葉をそれぞれ書け。

整備された坂出港には、石油を運ぶAなどの大型貨物船によって国内外から様々なものが運ばれる。また、1988年にイが開通し、トラックでも国内各地に輸送できるようになった。

- 資料Ⅱ中の下線部③や原油、天然ガスは火力発電の際に使用される。次のア～エのうち、この発電の特徴について述べたものとして正しいものを二つ選んで、その記号を書け。
 - ウラン燃料を利用して、発生させた熱で発電する
 - 日本の総発電量の8割以上をこの発電方法に依存している
 - 発電所の多くは、下線部②などの輸入に適した沿岸部に建設されている
 - 発電の際には、二酸化炭素などの温室効果ガスを出さない
- 資料Ⅲ中のア～エは、中京・阪神各工業地帯、関東内陸・瀬戸内各工業地域のいずれかを示している。このうち、瀬戸内工業地域を示すものはどれか。一つ選んで、その記号を書け。

資料Ⅱ 坂出港に運ばれる貨物の品目別内訳



資料Ⅲ 工業出荷額における国内上位4工業地域の出荷額の内訳

地域	2017年 (兆円)			
	機械	金属	繊維	食品
ア	33.1	16.8	1.3	12.4
イ	30.8	20.9	10.9	13.8
ウ	32.1	18.8	23.1	2.0
エ	57.8	45.6	9.8	16.6

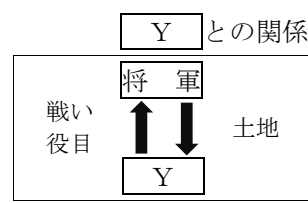
- 資料Ⅰ中のXの場所には博物館がある。これを示す地図記号を書け。
- 資料Ⅰを読み取った次のA、Bの文中の下線部⑦～⑩から誤りを二つ見つけ、それに代わる正しい言葉をそれぞれ書け。

問3 次の各資料を見て、あとの1～6の問いに答えなさい。

資料Ⅰ Sさんが書いた善通寺市の観光マップの3つの記事

<p>【王墓山古墳】6世紀前半に造られた全長46mの前方後円墳。石室からは①土器や首飾りなどの装飾品や武具、Xが地方の有力豪族に渡したとされる鉄刀が出土している。</p>	<p>【仲村城跡】②平安時代後期、③源氏に属していた行司貞房の居城。鎌倉時代には、この地域の中心的な城となった。後に廃城になるが、現在でも土塁と堀の一部は残っている。</p>	<p>【与北の茶堂跡に残る金毘羅灯籠】④江戸時代に建立された石灯籠。丸亀から⑤金毘羅街道までの中ほどにあり、当時流行したこんにら参りをする旅人たちの道しるべだった。</p>

資料Ⅱ 鎌倉幕府と



資料Ⅲ 下野国(栃木)の

武士を地頭に任じたときの書状

- 資料Ⅰ中の**X**内には、現在の奈良盆地で大王を中心に国づくりを行っていた国の名前があてはまる。その国の政府は何と呼ばれるか。その呼び名を書け。
- 資料Ⅰ中の下線部①のうち、米づくりが始まったころに作られた土器は何と呼ばれるか。その呼び名を書け。また、米づくりを人々が始めたことでむらとむらの間で争いが起こるようになった理由を **水** という言葉を用いて、簡単に書け。
- 資料Ⅰ中の下線部③が開いた鎌倉幕府について、次のa、bの問いに答えよ。
 - 資料Ⅱ中の**Y**内に共通してあてはまる最も適切な言葉を書け。
 - 資料Ⅱ中の**Y**が鎌倉幕府に従った理由を、資料Ⅱ、Ⅲから考え、**土地**という言葉を用いて、簡単に書け。
- 次のア～エは、資料Ⅰ中の下線部④に行われた政治の様子を述べたものである。このうち、正しいものを二つ選んで、その記号を書け。
 - 新しい政権のなかで幕府勢力の地位を確保するため、外国との貿易を始めるよう命じた
 - 多くの大名は1年ごとに江戸と領地を行き来し、その妻子は江戸の屋敷に住むよう命じた
 - 全国の外様大名に対して一国一城令を出し、大名が住む城以外の城の破壊を命じた
 - 父である先代の将軍とともに武家諸法度を定め、すべて幕府の法令に従うよう命じた
- 資料Ⅰ中の下線④には、下線部⑤をはじめ、全国各地の交通網が整備された。当時の人々が利用した五街道のうち、江戸と京都を結ぶ二つの道はそれぞれ何と呼ばれるか。その呼び名を書け。
- 資料Ⅰ中の下線部②から下線部④の間に起こった次のア～エのできごとが、年代の古い順に左から右に並ぶように、記号ア～エを用いて書け。

ア 元軍が日本に攻めてくる	イ 外国から鉄砲が伝えられる
ウ 明を征服するために朝鮮に大軍を送る	エ 外国との貿易に朱印状が使用される

問4 次の各資料を見て、あとの1～6の問いに答えなさい。

資料Ⅰ 日本の国力の充実と国際的な地位の向上

資料Ⅱ 幕末の歴史に関係の深い場所

年代	主なできごと
1868	①五箇条の御誓文を定める
1871	②廃藩置県を行う
1874	③自由民権運動が広がる
1889	大日本帝国憲法が公布される
1894	イギリスとの条約改正に成功する
1911	条約改正が達成される

都道府県界は現在のものである。

資料Ⅲ ある会談

資料Ⅳ 陸奥宗光の決心

資料Ⅴ 二種類の千円(見本)

<p>戦いを早期に終わらせ、戦火からまちを守ることが決められた。</p>		
--------------------------------------	--	--

- 資料Ⅰ中の下線部①、②を推し進めた人物として適当な人物を、次のア～エから二人選んで、その記号を書け。

ア 大久保利通	イ 木戸孝允	ウ 大隈重信	エ 板垣退助
---------	--------	--------	--------
- 資料Ⅱ中のア～エのうち、資料Ⅲの会談が行われた場所はどこか。一つ選んで、その記号を書け。
- 資料Ⅰ中の下線部③では、当時の人々は何を求めたのか。参加国会の二つの言葉を用いて、簡単に書け。
- 次のア～エのうち、資料Ⅳ中の下線部④が示す戦争の一つを選んで、その記号を書け。また、その記号を選んだ理由を、資料中の言葉を用いて、簡単に書け。

ア 第一次世界大戦	イ 日露戦争	ウ 日清戦争	エ 西南戦争
-----------	--------	--------	--------
- 資料Ⅴに描かれた二人の人物の共通点をまとめようとした次の文中の**ア**内に共通してあてはまる最も適切な言葉を書け。また、**イ**内にあてはまる最も適切な言葉を書け。

二人は共に**ア**の分野で活躍し、日本の**ア**が世界に認められるきっかけとなった。**ア**の発展や1858年からの53年にわたる**イ**の取組を通して、日本の国際的な地位の向上が図られた。
- 資料Ⅰのタイトルに合わせて、次のア～エのできごとを年表に書き加えたい。このア～エを年代の古い順に左から右に並ぶように、記号ア～エを用いて書け。

ア 伊藤博文はドイツの憲法を学んで帰国し、行政を担当する内閣制度を作った
イ 官営八幡製鉄所では中国の鉄鉱石と九州地方の石炭を使って鉄鋼の生産が始まった
ウ 政府は6歳以上の男女が小学校に通うことを定め、また、多くの留学生を海外に派遣した
エ ロシアは樺太南部や満州の鉄道を日本にゆずり、韓国を日本の勢力下に置くことを認めた